



โรงเรียนสอนขับรถปัญญาวัฒน์ P-DRIVING

STUDY DOCUMENTS MOTORCYCLE AND CAR COURSES EXAM GUIDELINES



60

สอบถามเพิ่มเติม 091-072-5616



โรงเรียนสอนขับรถปัญญาวัฒน์ P-DRIVING



ป้าย "หยุด" Stop sign



ป้าย "ห้ามกลับรถไปทางขวา"
No right U-turn



ป้าย "ห้ามเข้า" No entry



ป้าย "ให้ทาง" Yield sign



ป้าย "ห้ามกลับรถไปทางซ้าย"
No left U-turn



ป้าย "ห้ามจอดรถ"
No parking



ป้าย "ให้รถสวนทางมาก่อน"
Give way to oncoming traffic



ป้าย "ห้ามเลี้ยวซ้าย" No left turn



ป้าย "ห้ามหยุดรถ"
No stopping/No parking



ป้าย "ห้ามแซง" No overtaking



ป้าย "ห้ามเลี้ยวขวา" No right turn



ป้าย "ห้ามเปลี่ยนช่องเดินรถไปทางซ้าย"
No changing to left lane



ป้าย "ห้ามใช้เสียง"
No honking



ป้าย "ห้ามเปลี่ยนช่องเดินรถไปทางขวา"
No changing to right lane



โรงเรียนสอนขับรถปัญญาวัฒน์ P-DRIVING



ป้าย "ห้ามรถยนต์ผ่าน"
No access to cars



ป้าย "ห้ามรถจักรยานยนต์และรถยนต์ผ่าน"
Closed to motorized vehicles



ป้าย "ห้ามรถบรรทุกผ่าน"
Closed to trucks



ป้าย "ห้ามคนผ่าน"
No pedestrians



ป้าย "ห้ามรถกว้างเกินกำหนดผ่าน"
Maximum width limit



ป้าย "ห้ามรถจักรยานยนต์ผ่าน"
Closed to motorcycles



ป้าย "จำกัดความเร็ว"
Maximum speed limit



ป้าย "ห้ามรถสูงเกินกำหนดผ่าน"
Maximum height limit



ป้าย "ห้ามรถยนต์สามล้อผ่าน"
Closed to Tuk-Tuks



ป้าย "ห้ามรถหนักเกินกำหนดผ่าน"
Maximum weight limit



ป้าย "สุดเขตบังคับ"
End of restriction



โรงเรียนสอนขับรถปัญญาวัฒน์ P-DRIVING



ป้าย "ให้เดินทางเดียว"
Ahead only



ป้าย "ให้ชิดขวา"
Keep right



ป้าย "ให้ตรงไปหรือเลี้ยวซ้าย"
Go straight on or turn left



ป้าย "ให้เดินทางเดียวไปทางซ้าย"
Turn left



ป้าย "ให้ชิดซ้ายหรือชิดขวา"
Keep left or right



ป้าย "ให้ตรงไปหรือเลี้ยวขวา"
Go straight on or turn right



ป้าย "ให้เดินทางเดียวไปทางขวา"
Turn right



ป้าย "ให้เลี้ยวซ้าย"
Turn left ahead



ป้าย "วงเวียน"
Roundabout



ป้าย "ให้ชิดซ้าย"
Keep left



ป้าย "ให้เลี้ยวขวา"
Turn right ahead



ป้าย "ช่องเดินรถประจำทาง"
Bus lane



ป้าย "ให้เลี้ยวซ้ายหรือเลี้ยวขวา"
Left turn or right turn




ป้าย "ช่องเดินรถมวชน"
Car pool lane

โรงเรียนสอนขับรถปัญญาวัฒน์ P-DRIVING



ป้าย "ช่องเดินรถจักรยานยนต์"
Motorcycle lane



"เส้นแบ่งทิศทางจราจรปกติ"
Broken yellow line



ป้าย "ช่องเดินรถจักรยาน"
Bicycle lane



เส้นทึบสีเหลืองเดี่ยว Single solid yellow line



เส้นทึบสีเหลืองคู่ Double solid yellow line

"เส้นแบ่งทิศทางจราจรห้ามแซง"
No overtaking division line



ป้าย "ให้ใช้ความเร็ว"
Minimum speed limit



"เส้นแบ่งทิศทางจราจรห้ามแซงเฉพาะด้าน"



ป้าย "สุดเขตบังคับ"
End of restriction



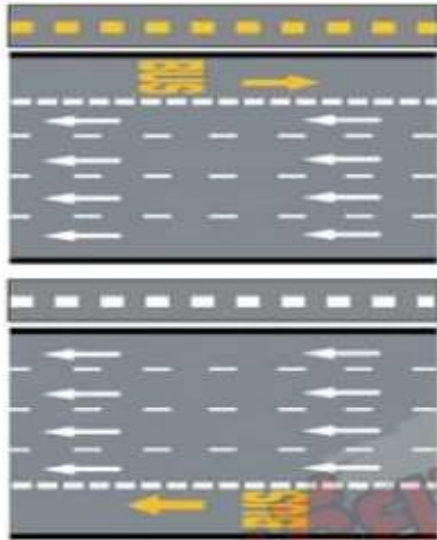
"เส้นแบ่งช่องเดินรถ" หรือ "เส้นแบ่งช่องจราจร"
Broken white line



"เส้นห้ามเปลี่ยนช่องเดินรถ" หรือ
"เส้นห้ามเปลี่ยนช่องจราจร" Solid white line



โรงเรียนสอนขับรถปัญญาวัฒน์ P-DRIVING



"เส้นแบ่งช่องเดินรถประจำทาง"
Bus lane line



"ลูกศร"
Straight, Left-turn and
Right-turn arrow marking



"เส้นทแยงห้ามหยุดรถ"
No stopping grid area



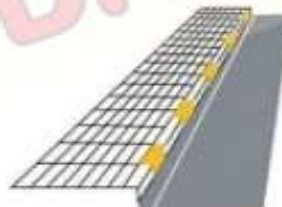
"ให้ทาง"
Give way



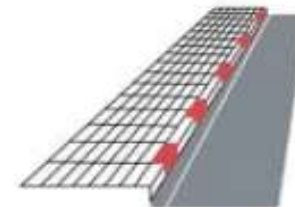
"เส้นชะลอความเร็ว"
Rumble strips



"เครื่องหมายขาวดำ"
Black and white kerb



"เครื่องหมายเส้นห้ามจอด เว้นแต่หยุดรับ-ส่งชั่วคราว"
Parking prohibited except temporary loading and unloading



"เครื่องหมายเส้นห้ามหยุดหรือจอดรถ"
No parking or no standing



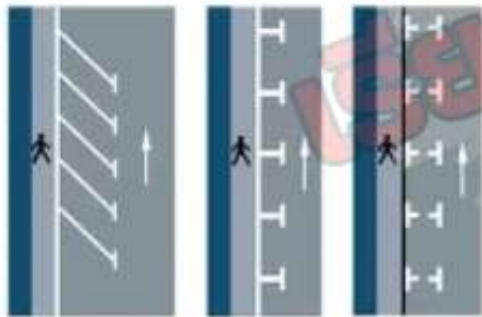
โรงเรียนสอนขับรถปัญญาวัฒน์ P-DRIVING



"เส้นแนวข้อจราจรผ่านทางแยก"
Traffic lanes at a



"เส้นทางรถไฟผ่าน"
Railway crossing



"เส้นข้อจอดรถ"
Parking spaces



โรงเรียนสอนขับรถปัญญาวัฒน์ P-DRIVING

ป้าย "ทางโค้งต่าง ๆ"



Left bend



Right bend



Sharp left curve



Sharp right curve



Left double bend



Merging Lane left



Merging Lane right



Right double bend



Left double



Right double curve



Left zig zag road



Right zig zag road



Right U-turn ahead



Left U-turn ahead

ป้าย "ทางร่วม"

ป้าย "จุดกลับรถ"

ป้าย "ทางแยกต่าง ๆ"



Intersection ahead



Y-junction ahead



T-junction left



T-junction right



T-junction left & right



Right U-turn ahead



Left U-turn ahead

ป้าย "ให้เบี่ยงหลบทางจราจร"



T-junction right & left



Left merging road



Right Merging road



Road branching off left



Road branching off right



ป้าย "วงเวียนข้างหน้า" Roundabout ahead



โรงเรียนสอนขับรถปัญญาวัฒน์ P-DRIVING



ป้าย "วงเวียนข้างหน้า" Roundabout ahead



ป้าย "สะพานแคบ" Approaching narrow bridge



ป้าย "ทางคู่ข้างหน้า" Dual carriage way ahead



ป้าย "ทางแคบทั้งสองด้าน" Merging lanes



ป้าย "เส้นทางกระโดด" Unequal road surface



ป้าย "สิ้นสุดทางคู่" Dual carriage way ends



ป้าย "ทางแคบด้านซ้าย" Left narrow lane



ป้าย "ผิวทางขรุขระ" Uneven road surface



ป้าย "ทางเดินรถสองทาง" Two-way traffic ahead



ป้าย "ทางแคบด้านขวา" Right narrow lane



ป้าย "ทางเป็นแอ่ง" Dimple road



ป้าย "ออกทางขนาน" Exit to frontage road



ป้าย "ทางลื่น" Slippery road



ป้าย "เข้าทางหลัก" Entrance onto main road



โรงเรียนสอนขับรถปัญญาวัฒน์ P-DRIVING



ป้าย "ทางข้ามทางรถไฟไม่มีเครื่องกั้นทาง"
Open railroad crossing



ป้าย "ทางข้ามทางรถไฟมีเครื่องกั้นทาง"
Secure railroad crossing



ป้าย "ผิวทางชำรุด" Gravel on road



ป้าย "สัญญาณจราจร" Traffic lights ahead



ป้าย "ทางแคบ" Maximum width



ป้าย "ทางลอดต่ำ" Maximum height



ป้าย "ทางขึ้นลาดชัน" Steep climb



ป้าย "ทางลงลาดชัน" Steep descent



ป้าย "ระวังสัตว์" Beware of cattle



ป้าย "โรงเรียนระวางเด็ก"
Approaching school crossing



ป้าย "ระวังคนข้ามถนน" Pedestrian crossing ahead



Pass either
side



โรงเรียนสอนขับรถปัญญาวัฒน์ P-DRIVING





โรงเรียนสอนขับรถปัญญาวัฒน์ P-DRIVING



สำรวจทาง



งานก่อสร้าง



คนทำงาน



เครื่องจักรกำลังทำงาน



ทางแคบข้างหน้า



ทางแคบขวา



เตือนแนวทางต่างๆ

เรียน



โรงเรียนสอนขับรถปัญญาวัฒน์ P-DRIVING

SET5



60

สอบถามเพิ่มเติม 091-072-5616

โรงเรียนสอนขับรถปัญญาวัฒน์ P-DRIVING



Good luck on the exam.



ข้อสอบ 1

กดเพื่อดูเฉลยด้านล่าง

Which of the following is the correct way to check your car's electrical system?

(590)



1.) Check brake lights and headlights



2.) Check left/ right indicator lights



3.) Check left and right indicator lights and high/low headlights - dim lights - brake lights - licence plate lights.



4.) Check headlight and left/right indicator lights

โรงเรียนสอนขับรถปัญญาวัฒน์ P-DRIVING



Good luck on the exam.

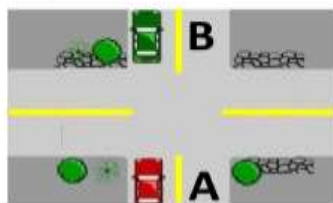


ข้อสอบ 2

กดเพื่อขยายเต็มหน้าจอ

Which is the correct action during a traffic jam when car B cannot move forward and car A needs to drive straight on?

(122)



1.) Drive with the car B on the right.



2.) Drive after the car B and turn on emergency lights.



3.) Drive after the car B to avoid the gap.



4.) Stop the car and wait for the car B to pass first.



SET 5

โรงเรียนสอนขับรถปัญญาวัฒน์ P-DRIVING










Good luck on the exam.



ข้อสอบ 3 กดเพื่อดูรายละเอียดคำถาม

When the driver sees this sign, what should the driver do? ^(7/17)



 1.) Keep right 	 2.) Don't keep left
 3.) Keep left	 4.) Don't keep right

โรงเรียนสอนขับรถปัญญาวัฒน์ P-DRIVING



Good luck on the exam.



ข้อสอบ 4

กดเพื่อขยายเต็มหน้าจอ

When the driver sees this sign, what should the driver do?⁽⁷⁶²⁾



1.) Slow down and be careful. There may be cars merging from the left ahead.



2.) Slow down and be careful. Right curve ahead.



3.) Slow down and be cautious. The road ahead is a sharp curve to the left



4.) Slow down and be careful. Curve left ahead

โรงเรียนสอนขับรถปัญญาวัฒน์ P-DRIVING



Good luck on the exam.



ข้อสอบ 5

กดเพื่อขยายเต็มหน้าจอ

When the driver sees this sign, what should the driver do? (707)



1.) No pedestraains allowed



2.) Crossing



3.) Pedestrians only



4.) Crossing zone.

SET 5

โรงเรียนสอนขับรถปัญญาวัฒน์ P-DRIVING



Good luck on the exam.




ข้อสอบ 6

🔍 ค้นหาตามสิ่งพิมพ์

Which of the following has the greatest impact in an accident situation?

(1722)



1.) Geographical features.



2.) Driver being unprepared.



3.) Movement of the car or pedestrian.



4.) Road surface.

SET 5

โรงเรียนสอนขับรถปัญญาวัฒน์ P-DRIVING



Good luck on the exam.



ข้อสอบ 7

กดเพื่อขยายหน้าจอ

In which of the following situations should the hand brake be used?

(1839)



1.) For stopping the car suddenly.



2.) For slowing down the vehicle



3.) When driving downhill.



4.) To park or stop on a steep slope.



SET 5

โรงเรียนสอนขับรถปัญญาวัฒน์ P-DRIVING



Good luck on the exam.



ข้อสอบ 8

🔍 ค้นหาด้วยคีย์เวิร์ด

What should the driver of the yellow car in the picture do in this situation?

(1951)



1.) Gradually move forward



2.) Turn left and make a u-turn.



3.) Use a horn signal to let another car stop for you.



4.) Drive away immediately.

SET 5

โรงเรียนสอนขับรถปัญญาวัฒน์ P-DRIVING



Good luck on the exam.



ข้อสอบ 9

🔍 กดเพื่อดูรายละเอียด

When should you use the Emergency Signals?⁽¹⁸⁸⁰⁾



1.) When you want to drive through an intersection.



2.) When you drive at low speed due to heavy rain



3.) When you drive at low speed while getting lost



4.) When your car is broken or an accident occurs.



SET 5

โรงเรียนสอนขับรถปัญญาวัฒน์ P-DRIVING



Good luck on the exam.



ข้อสอบ 10

กดเพื่อย้ายตำแหน่ง

If you want to turn right as in the picture below, what would a safe and careful driver do?

(633)



1.) Drive to the right lane to make a turn.



2.) Stop and wait at a position to turn and turn when safe.



3.) Should turn to keep up because a larger vehicle obstructs the opposite side.



4.) Accelerate to turn right immediately.

SET 5

โรงเรียนสอนขับรถปัญญาวัฒน์ P-DRIVING



Good luck on the exam.



ข้อสอบ 11

กดเพื่อขยายเต็มหน้าจอ

Which of the following is the safest thing to do before driving your car away from the left side of the road?

(60S)



1.) Turn on left indicator lights. Turn your head to the left.



2.) Check the right hand side mirror.



3.) Look at the right side mirror. Turn on the right indicator light and turn your head over to the right shoulder to the back before leaving the car.



4.) Check the rearview mirror.

โรงเรียนสอนขับรถปัญญาวัฒน์ P-DRIVING



Good luck on the exam.



ข้อสอบ 12

กดเพื่อขยายเต็มหน้าจอ

When should the oil level in the engine be checked?⁽⁵⁸⁷⁾



1.) Right after turning off the engine.



2.) While the engine is cool.



3.) While parking the car on the hill.



4.) As the engine runs

SET 5

โรงเรียนสอนขับรถปัญญาวัฒน์ P-DRIVING



Good luck on the exam.



ข้อสอบ 13

กดเพื่อดูเฉลยด้านล่าง

Moving an injured person with three helpers is appropriate for what kind of patients?

(1710)



1.) Suitable for patient who is conscious.



2.) The injured person with light weight.



3.) For those who are not conscious.



4.) Suitable for emergency.

SET 5

โรงเรียนสอนขับรถปาล์มวัฒน์ P-DRIVING



Good luck on the exam.



ข้อสอบ 14

กดเพื่อขยายเต็มหน้าจอ

Which of the following consumes the most fuel?⁽¹⁹⁷⁹⁾



1.) Stepping hard on the brake pedal and accelerator



2.) Poor control of the steering wheel



3.) Using high gear for a long period



4.) Speeding up at the curve

SET 5

โรงเรียนสอนขับรถปัญญาวัฒน์ P-DRIVING



Good luck on the exam.



ข้อสอบ 15

กดเพื่อขยายเต็มหน้าจอ

What must you do if the left lane is obstructed and there is oncoming traffic?

(1883)



1.) If you think that you can drive faster than the oncoming traffic try to overtake immediately.



2.) Turn on emergency light signals and overtake.



3.) Drive through it without paying attention to the oncoming traffic



4.) Stop and wait until the oncoming car has passed then continue driving.



SET 5

โรงเรียนสอนขับรถปัญญาวัฒน์ P-DRIVING



Good luck on the exam.



ข้อสอบ 16

🔍 ค้นหาด้วยคีย์เวิร์ด

When the driver sees this sign, what should the driver do?⁽⁷⁴⁹⁾



1.) Slow down and be cautious. The road ahead height less than 2.50 metres.



2.) Slow down and increase caution. Vehicles not over 2.50 metres are allowed.



3.) Slow down and be cautious. The road ahead allows heights over 2.50 metres.



4.) Slow down and be cautious. The road ahead is wider than 2.50 metres. Allowed to pass.

SET 5

โรงเรียนสอนขับรถปัญญาวัฒน์ P-DRIVING



Good luck on the exam.



ข้อสอบ 17

กดเพื่อขยายเต็มหน้าจอ

Are people with severe muscular disease allowed to drive a vehicle?

(1733)



1.) Only public vehicles



2.) Should not for all cases.



3.) Only private vehicles.



4.) Yes for all cases.

SET 5

โรงเรียนสอนขับรถปัญญาวัฒน์ P-DRIVING



Good luck on the exam.



ข้อสอบ 18

คลิกเพื่อดูเฉลย

Why do cars often slip after it has been raining?⁽⁵⁹⁸⁾



1.) Rain causes the road to be bumpy.



2.) Rain will rinse the road clean.



3.) Concrete road absorbs rainwater well.



4.) Rain water will make coat the tyres making them slippery.



SET 5

โรงเรียนสอนขับรถปัญญาวัฒน์ P-DRIVING



Good luck on the exam.



ข้อสอบ 19

กดเพื่อขยายเต็มหน้าจอ

The reserve tank should be filled up to what level?⁽⁵⁹¹⁾



1.) Fill up as you want



2.) Between high and low levels indicated at the water tank.



3.) Full tank



4.) Half a bucket

SET 5

โรงเรียนสอนขับรถปัญญาวัฒน์ P-DRIVING



Good luck on the exam.



ข้อสอบ 20

🔍 กดเพื่อดูรายละเอียด

How slow or fast can you safely reverse your car?⁽⁶⁵⁸⁾



1.) Reverse at the same speed as moving forward.



2.) Slowly reverse and be cautious



3.) Any speed



4.) Use the speed according to the car condition.

SET 5

โรงเรียนสอนขับรถปัญญาวัฒน์ P-DRIVING



Good luck on the exam.



ข้อสอบ 21

กดเพื่อขยายเต็มหน้าจอ

When a driver flees the scene of an accident, what will be the result?

(566)



1.) You will be the right party



2.) It is assumed that the person is the culprit.



3.) They will be asked to be a witness



4.) No results because he is not at fault

SET 5

โรงเรียนสอนขับรถปัญญาวัฒน์ P-DRIVING



Good luck on the exam.



ข้อสอบ 22

กดเพื่อขยายเต็มหน้าจอ

When a passenger is a 13-year-old child traveling with a parent, who is responsible for checking if the child already wears a seat belt?

(1999)



 1.) The passenger sitting in front	 2.) The driver 
 3.) The child	 4.) The parent

SET 5

โรงเรียนสอนขับรถปัญญาวัฒน์ P-DRIVING



Good luck on the exam.








ข้อสอบ 23

กดเพื่อย้ายตำแหน่ง

What is a possible effect for people who have been injured and in recovery (such as the removal of the cast after treatment) and have not driven for a long time?

(1737)



 <p>1.) The ability to control the vehicle temporarily reduced.</p> 	 <p>2.) No effects at all.</p>
 <p>3.) Permanent disability.</p>	 <p>4.) Change the way of driving.</p>

โรงเรียนสอนขับรถปัญญาวัฒน์ P-DRIVING



Good luck on the exam.



ข้อสอบ 24

🔍 กดเพื่อขยายเต็มหน้าจอ

Why should you keep a generous distance from the motorcycle before overtaking the motorcycle?

(1970)



1.) The motorcycle rider could accelerate the speed



2.) The motorcycle rider may make a sudden turn



3.) The motorcycle rider may get off from the vehicle



4.) The motorcycle rider may need to make a left turn

โรงเรียนสอนขับรถปัญญาวัฒน์ P-DRIVING



Good luck on the exam.



ข้อสอบ 25

กดเพื่อขยายหน้าจอ

What gear should be used to drive up or down the slope?⁽⁵⁹⁶⁾



1.) Any gear



2.) High gear



3.) Low gear



4.) Neutral gear

SET 5

โรงเรียนสอนขับรถปัญญาวัฒน์ P-DRIVING



Good luck on the exam.



ข้อสอบ 26

กดเพื่อขยายเต็มหน้าจอ

As you are driving on a wet road if you want to stop the car due to emergency issues what should you do?

(1990)



1.) Use reverse gear



2.) Use brakes as well as hand brakes



3.) Use hand signals



4.) Hold the steering wheel firmly with both hands



SET 5

โรงเรียนสอนขับรถปัญญาวัฒน์ P-DRIVING



Good luck on the exam.



ข้อสอบ 27

กดเพื่อขยายเต็มหน้าจอ

What must you do if you want to turn left?⁽¹⁸⁵³⁾



1.) Blow the horn before turning the car.



2.) Turn left right away



3.) Accelerate to be able to turn faster.



4.) Turn indicator signal lights on, slow down and turn when safe.



SET 5

โรงเรียนสอนขับรถปัญญาวัฒน์ P-DRIVING



Good luck on the exam.



ข้อสอบ 28

กดเพื่อดูเฉลยด้านล่าง

When the driver sees this sign, what should the driver do?⁽⁷⁸⁸⁾



1.) Drive slowly and U-turn for cars only.



2.) Drive slowly and turn left.



3.) Slow down and U-turn when safe.



4.) Drive slowly and do not U-turn.

SET 5

โรงเรียนสอนขับรถปัญญาวัฒน์ P-DRIVING



Good luck on the exam.



ข้อสอบ 29

กดเพื่อดูเฉลยด้านล่าง

In which of the following areas is it safe to make a U-turn?⁽⁵⁵⁹⁾



1.) More than 100 metres from the foot of the bridge.



2.) In lanes where there is a 'No U-turn' sign



3.) In a safety zone



4.) In a bridge area

SET 5

โรงเรียนสอนขับรถปัญญาวัฒน์ P-DRIVING



Good luck on the exam.



ข้อสอบ 30

กดเพื่อขยายเต็มหน้าจอ

Why should drivers use a low gear when going down a ramp?

(617)



1.) To reduce the heat of the engine.



2.) To slow the speed of the car.



3.) To increase the power of the car.



4.) To Speed up the car

SET 5

โรงเรียนสอนขับรถปัญญาวัฒน์ P-DRIVING



Good luck on the exam.



ข้อสอบ 31

กดเพื่อขยายเต็มหน้าจอ

When the driver sees this sign, what should the driver do?⁽⁷⁵⁶⁾



1.) Slow down and beware of falling rocks.



2.) Slow down and be cautious of the curvy road.



3.) Slow down and be careful. Slippery road.



4.) Slow down and be careful of the hazards of loose gravel material.



โรงเรียนสอนขับรถปัญญาวัฒน์ P-DRIVING



Good luck on the exam.



ข้อสอบ 32

กดเพื่อขยายเต็มหน้าจอ

From the picture, what must this driver do?⁽⁵²³⁾



1.) Drive the car immediately because there is a give way sign.



2.) Stop the car and wait for the car ahead to pass first.



3.) Slow down and stop over the dash lines to see the car from the right.



4.) Drive through immediately.

SET 5

โรงเรียนสอนขับรถปัญญาวัฒน์ P-DRIVING



Good luck on the exam.



ข้อสอบ 33

กดเพื่อขยายเต็มหน้าจอ

When there is traffic congestion during nighttime, what should you do to prevent the blurry vision of the driver in the car behind you due to your brake lights?

(1995)



1.) Use hand brake as well as foot brake



2.) Only use foot brake



3.) Use clutch together with accelerator



4.) Only use hand brake



SET 5

โรงเรียนสอนขับรถปัญญาวัฒน์ P-DRIVING



Good luck on the exam.



ข้อสอบ 34

กดเพื่อย้ายตำแหน่ง

Which is the correct meaning of the 'blind spot' of the car?

(1857)



1.) The back of the car that the rearview mirror cannot capture.



2.) The area where the driver can not see clearly while driving.



3.) The front of the car that can not be seen by the driver.



4.) The left side of the car that can not be seen by the driver.

SET 5

โรงเรียนสอนขับรถปัญญาวัฒน์ P-DRIVING



Good luck on the exam.



ข้อสอบ 35

กดเพื่อดูเฉลยคำตอบ

When should the tyres be checked?⁽⁶²³⁾



1.) While running for about 2 hours.



2.) While carrying heavy loads



3.) Check it whenever they need it



4.) When the tyres are still cool.



SET 5



โรงเรียนสอนขับรถปัญญาวัฒน์ P-DRIVING

Good luck on the exam.



ข้อสอบ 36

กดเพื่อขยายเต็มหน้าจอ

Which is the correct way to start car engine?⁽⁶⁵⁹⁾



1.) Press the clutch pedal - start the engine.



2.) Pull hand brake - on neutral gear - turn off electronic equipments - press clutch pedal - start the engine.



3.) On neutral gear - pull hand brake - start the engine.



4.) Pull hand brake - turn off electronic equipments - start the engine.

SET 5

โรงเรียนสอนขับรถปัญญาวัฒน์ P-DRIVING



Good luck on the exam.



ข้อสอบ 37

กดเพื่อขยายเต็มหน้าจอ

Which of the following is driving WITHOUT a mindful conscience?

(1932)



1.) When you feel drowsy, stop the car immediately.



2.) Slow down and be cautious in a busy area.



3.) Slow down and exercise caution when driving through community areas.



4.) Driving while exhausted, sleepy, or binge drinking



SET 5

โรงเรียนสอนขับรถปัญญาวัฒน์ P-DRIVING



Good luck on the exam.



ข้อสอบ 38

กดเพื่อดูเฉลยเต็มหน้าจอ

From the picture, if there is no traffic light, does the red car or the yellow car have the right of way?

(1892)



1.) The vehicle with the higher speed.



2.) Red car



3.) The car that arrives at the intersection first.



4.) Yellow car



โรงเรียนสอนขับรถปัญญาวัฒน์ P-DRIVING



Good luck on the exam.



ข้อสอบ 39

กดเพื่อขยายเต็มหน้าจอ

What does this road marking (White Line) mean?⁽⁶⁸¹⁾



1.) Can turn



2.) Slow down lines



3.) Don't turn



4.) Park is allowed.

โรงเรียนสอนขับรถปัญญาวัฒน์ P-DRIVING



Good luck on the exam.



ข้อสอบ 40

กดเพื่อขยายเต็มหน้าจอ

When the driver sees this sign, what should the driver do? (702)



1.) No cars are allowed



2.) All cars are allowed to pass.



3.) No motorcycles allowed



4.) Motorcycles are allowed.

โรงเรียนสอนขับรถปัญญาวัฒน์ P-DRIVING



Good luck on the exam.



ข้อสอบ 41

กดเพื่อขยายเต็มหน้าจอ

What does this road mark mean?⁽⁶⁸²⁾



1.) Do not pass solid lines or straddling the solid line but dashed lines may overtake when it is safe.



2.) Do not turn left or turn right



3.) Driving one way left.



4.) Don't go straight or turn right

SET 5



Good luck on the exam.



โรงเรียนสอนขับรถปัญญาวัฒน์ P-DRIVING

ข้อสอบ 42

กดเพื่อขยายเต็มหน้าจอ

What should you do if you spot a driver making a U-turn and merging into your lane?

(1927)



1.) Accelerate to request way as disapproved signal to make a U-turn



2.) Be kind, reduce speed and give way to the driver.



3.) Dodge away by overtaking to another lane.



4.) Be irritated. Honk the horn but stop.

SET 5

โรงเรียนสอนขับรถปัญญาวัฒน์ P-DRIVING



Good luck on the exam.



ข้อสอบ 43

กดเพื่อขยายเต็มหน้าจอ

How old does a car have to be before it has to be checked prior to the annual tax payment?

(545)



1.) 5 years



2.) 6 years



3.) 7 years



4.) 3 years

SET 5

โรงเรียนสอนขับรถปัญญาวัฒน์ P-DRIVING



Good luck on the exam.



ข้อสอบ 44

กดเพื่อขยายเต็มหน้าจอ

When the driver sees this sign, what should the driver do? ⁽⁷¹⁸⁾



1.) Keep right only



2.) Keep left or keep right



3.) Do not keep either left or right



4.) Keep left only

SET 5

โรงเรียนสอนขับรถปัญญาวัฒน์ P-DRIVING



Good luck on the exam.



ข้อสอบ 45

🔍 ค้นหาแบบฝึกหัด

In which areas can parking be made?⁽⁵⁶³⁾



1.) At a crossroads



2.) In a tunnel



3.) Parking area



4.) Where there is Don't Stop sign

โรงเรียนสอนขับรถปัญญาวัฒน์ P-DRIVING



Good luck on the exam.



ข้อสอบ 46

กดเพื่อขยายหน้าจอ

What is the speed limit OUTSIDE Bangkok, Pattaya City and other metropolitan districts?

(571)



1.) Up to 120 km/h



2.) Up to 100 km/h



3.) Up to 90 km/h



4.) Up to 80 km.

SET 5

โรงเรียนสอนขับรถปัญญาวัฒน์ P-DRIVING



Good luck on the exam.




ข้อสอบ 47

🔍 กดเพื่อขยายเต็มหน้าจอ

What must Driver A do when s/he needs to turn right and there is an oncoming car?

(530)



1.) Do not turn.



2.) Wait for the oncoming traffic to pass before you turn right.



3.) Turn right away



4.) Stop. Let the car to the right go first then turn right.

SET 5

โรงเรียนสอนขับรถปัญญาวัฒน์ P-DRIVING



Good luck on the exam.



ข้อสอบ 48

กดเพื่อขยายเต็มหน้าจอ

What condition does a vehicle need to be in before registration?

(1814)



1.) The car that inspected by a private car inspector.



2.) Vehicles purchased from the general car dealer.



3.) The car must have the correct fittings.



4.) The car must have complete fittings and have passed the car inspection.



SET 5

โรงเรียนสอนขับรถปัญญาวัฒน์ P-DRIVING



Good luck on the exam.



ข้อสอบ 49

กดเพื่อดูเฉลยด้านล่าง

What does this sign mean? (739)



1.) Secondary road on the left in Y-shape.



2.) Main road splits from another main road from left in Y-shape



3.) Secondary road splits from another secondary road from left in Y-shape



4.) Y-shape secondary road on the right.



SET 5

โรงเรียนสอนขับรถปัญญาวัฒน์ P-DRIVING



Good luck on the exam.



ข้อสอบ 50

กดเพื่อขยายเสียงคำถาม

When the driver sees this sign, what should the driver do?⁽⁷⁸⁵⁾



1.) Slow down. Steep hill ascent ahead.



2.) Slow down and be careful. The way forward requires a left diverted lane.



3.) Slow down. Increase caution, The road ahead is narrow bridge.



4.) Slow down Increase caution. Steep hill descent ahead.



SET 5