



โรงเรียนสอนขับรถปัญญาวัฒน์ P-DRIVING

ข้อสอบ 1

กดเพื่อดูเฉลยเต็มหน้าจอ

In what situation will the A pillar impair your visibility?⁽¹⁹⁹¹⁾



มาทบทวน
ข้อสอบกัน
นะครับ



1.) When entering a one-way road



2.) When driving on dual lanes



3.) When driving on motorways



4.) When entering curves and crossroads



< กลับ

ถัดไป >

Set 3

สอบถามเพิ่มเติม 091-072-5616



โรงเรียนสอนขับรถปัญญาวัดณ์ P-DRIVING

ข้อสอบ 2

กดเพื่อขยายเต็มหน้าจอ

What do worn or expired tyres look like?⁽⁶¹⁸⁾



1.) The water will not cover the tyres when wet.



2.) The tyre will be white.



3.) The tyres will be completely black.



4.) Cracks along the tyre.



< กลับ

ถัดไป >

มาทบทวน
ข้อสอบกัน
นะครับ



Set 3

สอบถามเพิ่มเติม 091-072-5616



โรงเรียนสอนขับรถปัญญาววัฒน์ P-DRIVING

ข้อสอบ 3

กดเพื่อขยายเต็มหน้าจอ

All medicines from pharmacies can be taken without having any effect on driving. True or false.

(1694)



1.) No



2.) Depending on the type of vehicle driven



3.) Yes



4.) Depending on food taken

< กลับ

ถัดไป >

มาทบทวน
ข้อสอบกัน
นะครับ



Set 3

สอบถามเพิ่มเติม 091-072-5616



โรงเรียนสอนขับรถปัญญาววัฒน์ P-DRIVING

ข้อสอบ 4

กดเพื่อขยายเต็มหน้าจอ

What must be done when driving in two-way traffic?⁽⁵⁵⁷⁾



1.) You can overtake by using the bus lane.



2.) Slow down and drive on the left.



3.) If the way ahead is too narrow for traffic to flow in both directions then the driver in smaller car must and pull over to the left to let the bigger car go first.



4.) If there are obstacles ahead, there is no need to stop or wait for the oncoming traffic

< กลับ

ถัดไป >

มาทบทวน
ข้อสอบกัน
นะครับ



Set 3

สอบถามเพิ่มเติม 091-072-5616



โรงเรียนสอนขับรถปัญญาวัดณ์ P-DRIVING

ข้อสอบ 5

กดเพื่อขยายเต็มหน้าจอ

What system should you test and check from a distance of 3 to 4 metres after alighting from your car?

(609)



1.) Any adjustments needed for the rearview mirror.



2.) Brake system



3.) Indicator signals



4.) Any adjustments needed for the side mirrors.

< กลับ

ถัดไป >

มาทบทวน
ข้อสอบกัน
นะครับ



Set 3

สอบถามเพิ่มเติม 091-072-5616



โรงเรียนสอนขับรถปัญญาววัฒน์ P-DRIVING

ข้อสอบ 6

กดเพื่อขยายเต็มหน้าจอ

When the driver sees this sign, what should the driver do? (703)



1.) Do not park but picking up is allowed in the area where the sign is installed.



2.) All vehicles are allowed to enter the signage area.



3.) No motorcycles and cars are allowed.



4.) Motorcycles are allowed to enter the signage area.



< กลับ

ถัดไป >

มาทบทวน
ข้อสอบกัน
นะครับ



Set 3

สอบถามเพิ่มเติม 091-072-5616



โรงเรียนสอนขับรถปัญญาววัฒน์ P-DRIVING

ข้อสอบ 7

กดเพื่อขยายเต็มหน้าจอ

When the driver sees this sign, what should the driver do?⁽⁷⁸⁵⁾



1.) Slow down and be careful. The way forward requires a left diverted lane.



2.) Slow down. Increase caution, The road ahead is narrow bridge.



3.) Slow down Increase caution. Steep hill descent ahead.



4.) Slow down. Steep hill ascent ahead.

< กลับ

ถัดไป >

มาทบทวน
ข้อสอบกัน
นะครับ



Set 3

สอบถามเพิ่มเติม 091-072-5616



โรงเรียนสอนขับรถปัญญาววัฒน์ P-DRIVING

ข้อสอบ 8

กดเพื่อขยายเต็มหน้าจอ






Before driving, what should a good driver do to prepare himself?

(593)



มาทบทวน
ข้อสอบกัน
นะครับ



 <p>1.) Drink alcohol</p>	 <p>2.) Take amphetamines</p>
 <p>3.) Have enough rest</p> 	 <p>4.) Have a late night</p>

< กลับ

ถัดไป >

Set 3

สอบถามเพิ่มเติม 091-072-5616



โรงเรียนสอนขับรถปัญญาวัดณ์ P-DRIVING

ข้อสอบ 9

กดเพื่อขยายเต็มหน้าจอ

What type of water should not filled into the reserve tank?⁽⁵⁸⁸⁾



1.) Tap water



2.) Groundwater



3.) Distilled water



4.) Rain water

< กลับ

ถัดไป >

มาทบทวน
ข้อสอบกัน
นะครึบ



Set 3

สอบถามเพิ่มเติม 091-072-5616



โรงเรียนสอนขับรถปัญญาวัฒน์ P-DRIVING






ข้อสอบ 10

กดเพื่อขยายหน้าจอ

From what distance is overtaking forbidden when there is fog, dust, rain or smoke affecting visibility?

(558)



 <p>1.) 70 metres</p>	 <p>2.) 90 metres</p>
 <p>3.) 80 metres</p>	 <p>4.) 60 metres</p> 

< กลับ

ถัดไป >

มาทบทวน
ข้อสอบกัน
นะคะ



Set 3

สอบถามเพิ่มเติม 091-072-5616







โรงเรียนสอนขับรถปัญญาววัฒน์ P-DRIVING

ข้อสอบ 11

กดเพื่อขยายเต็มหน้าจอ

What does this sign mean? (787)



- | | |
|--|--|
| <p>1.) Start of expressway (Motorway)</p> <p></p> | <p>2.) Flyover for pedestrian</p> <p></p> |
| <p>3.) No U-turn.</p> <p></p> | <p>4.) Do not overtake</p> <p></p> |



< กลับ

ถัดไป >

มาทบทวน
ข้อสอบกัน
นะครับ



Set 3

สอบถามเพิ่มเติม 091-072-5616



โรงเรียนสอนขับรถปัญญาวัดณ์ P-DRIVING

ข้อสอบ 12

กดเพื่อขยายเต็มหน้าจอ

When driving on the road, a car overtakes at a very close distance as in the picture, how should you drive?

(1996)



1.) Blow the horn for a lengthy time



2.) Slow down and allow appropriate distance



3.) Speed up to approach the car that overtook at very close distance



4.) Flash the headlights many times

< กลับ

ถัดไป >

มาทบทวน
ข้อสอบกัน
นะครับ



Set 3

สอบถามเพิ่มเติม 091-072-5616



โรงเรียนสอนขับรถปัญญาวัฒน์ P-DRIVING

ข้อสอบ 13

กดเพื่อขยายเต็มหน้าจอ

When the driver sees this sign, what should the driver do?⁽⁷⁵⁵⁾



1.) Slow down and be cautious. Crumbling surface.



2.) Slow down and be careful. Curve ahead.



3.) Slow down and be careful of slippery surface. Do not brake suddenly.



4.) Slow down and be careful. Right narrow lane.

< กลับ

ถัดไป >

มาทบทวน
ข้อสอบกัน
นะครับ



Set 3

สอบถามเพิ่มเติม 091-072-5616



โรงเรียนสอนขับรถปัญญาวัดณ์ P-DRIVING

ข้อสอบ 14

กดเพื่อขยายเต็มหน้าจอ

When using a forward-facing child car seat in a car with an airbag system installed, what should you do before traveling?

(1987)



1.) Let the child sit on a normal seat and wear seat belt for adults



2.) Ask another passenger to hold the child



3.) Change the child car seat to be rear-facing



4.) Turn the airbag system off



< กลับ

ถัดไป >

มาทบทวน
ข้อสอบกัน
นะคะ



Set 3

สอบถามเพิ่มเติม 091-072-5616



โรงเรียนสอนขับรถปัญญาวัดณ์ P-DRIVING

ข้อสอบ 15

กดเพื่อขยายเต็มหน้าจอ

At an intersection where there is a "Do not make a U-turn" sign but a traffic official allows the driver to make a U-turn, what must be done?

(572)



1.) Make a U-turn if there is no U-turn sign



2.) Cannot make a U-turn



3.) U-turn according to the order of the traffic officer.



4.) U-turn if there is no intersection

< กลับ

ถัดไป >

มาทบทวน
ข้อสอบกัน
นะครับ



Set 3

สอบถามเพิ่มเติม 091-072-5616



โรงเรียนสอนขับรถปัญญาววัฒน์ P-DRIVING




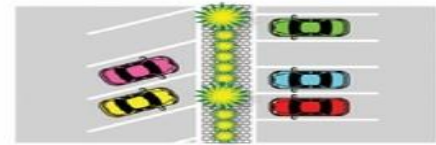
ข้อสอบ 16

กดเพื่อขยายเต็มหน้าจอ

From the following pictures, which one shows correct parking?

(790)



<p>1.) </p>	<p>2.) </p>
<p>3.) </p>	<p>4.) </p>

< กลับ

ถัดไป >

มาทบทวน
ข้อสอบกัน
นะครับ



Set 3

สอบถามเพิ่มเติม 091-072-5616



โรงเรียนสอนขับรถปัญญาวัดณ์ P-DRIVING

ข้อสอบ 17

กดเพื่อขยายเต็มหน้าจอ

Why should drivers use a low gear when going down a ramp?

(617)



1.) To increase the power of the car.



2.) To slow the speed of the car.



3.) To reduce the heat of the engine.



4.) To Speed up the car

< กลับ

ถัดไป >

มาทบทวน
ข้อสอบกัน
นะครับ



Set 3

สอบถามเพิ่มเติม 091-072-5616



โรงเรียนสอนขับรถปัญญาววัฒน์ P-DRIVING

ข้อสอบ 18

กดเพื่อขยายเต็มหน้าจอ

If the car tyre is too soft, how does it affect the tyre? ⁽¹⁸³⁰⁾



1.) Tread worn on both sides of the tyre.



2.) Driving is hard.



3.) The middle tread will wear faster than normal.



4.) Vehicle consumes less fuel.

< กลับ

ถัดไป >

มาทบทวน
ข้อสอบกัน
นะครับ



Set 3

สอบถามเพิ่มเติม 091-072-5616



โรงเรียนสอนขับรถปัญญาวัดณ์ P-DRIVING

ข้อสอบ 19

กดเพื่อขยายเต็มหน้าจอ

When the driver sees this sign, what should the driver do? (700)



1.) No vehicles are allowed to enter the signage area.



2.) All cars can enter where the sign is installed.



3.) No cars are allowed to enter the signage area.



4.) Drop off in the area where the sign is installed



< กลับ

ถัดไป >

มาทบทวน
ข้อสอบกัน
นะครับ



Set 3

สอบถามเพิ่มเติม 091-072-5616



โรงเรียนสอนขับรถปัญญาวัดณ์ P-DRIVING

ข้อสอบ 20

กดเพื่อขยายเต็มหน้าจอ

Which of the following is the correct procedure to check your tyre pressure?

(583)



มาทบทวน
ข้อสอบกัน
นะครับ



1.) Use a tyre gauge.



2.) Hit the tyres with iron bar.



3.) Use your hand



4.) With the naked eye



< กลับ

ถัดไป >

Set 3

สอบถามเพิ่มเติม 091-072-5616



โรงเรียนสอนขับรถปัญญาวัดณ์ P-DRIVING

ข้อสอบ 21

กดเพื่อขยายเต็มหน้าจอ

What should be done prior to turning right from the main road into the secondary road?

(1966)



มาทบทวน
ข้อสอบกัน
นะครับ



1.) Turn off the right indicator light



2.) Use gear 1



3.) Stop the car and pull the hand brake



4.) Check whether there are vehicles about to overtake



< กลับ

ถัดไป >

Set 3

สอบถามเพิ่มเติม 091-072-5616



โรงเรียนสอนขับรถปัญญาววัฒน์ P-DRIVING






ข้อสอบ 22

กดเพื่อขยายเต็มหน้าจอ

What does it mean If the temperature gauge reads high up to 'H'?

(1712)



 <p>1.) Cooling system is broken down.</p>	 <p>2.) There was a malfunction in the cooling system.</p> 
 <p>3.) This is at a normal level.</p>	 <p>4.) The cooling system is very good.</p>

< กลับ

ถัดไป >

มาทบทวน
ข้อสอบกัน
นะครับ



Set 3

สอบถามเพิ่มเติม 091-072-5616



โรงเรียนสอนขับรถปัญญาวัฒน์ P-DRIVING

ข้อสอบ 23

กดเพื่อขยายเต็มหน้าจอ

Mr. A. has been diagnosed with Parkinson's disease, can he drive?

(1735)



มาทบทวน
ข้อสอบกัน
นะครับ



1.) Yes.



2.) Should not.



3.) Only public vehicles.



4.) Only private vehicles.



< กลับ

ถัดไป >

Set 3

สอบถามเพิ่มเติม 091-072-5616



โรงเรียนสอนขับรถปัญญาวัดณ์ P-DRIVING

ข้อสอบ 24

กดเพื่อขยายเต็มหน้าจอ

What does this sign mean? (779)



1.) Right sharp curve then bend to straight



2.) Zipper Merge



3.) Left curve



4.) Left sharp curve then bend to straight

< กลับ

ถัดไป >

มาทบทวน
ข้อสอบกัน
นะครับ



Set 3

สอบถามเพิ่มเติม 091-072-5616



โรงเรียนสอนขับรถปัญญาวัดณ์ P-DRIVING

ข้อสอบ 25

กดเพื่อขยายเต็มหน้าจอ

Both the red and the yellow cars in the picture want to go in the same direction, which car has the right of way when the traffic signals change to green?



(1891)



1.) The vehicle with the higher speed.



2.) Any vehicle that arrived at the intersection first.



3.) Yellow car



4.) Red car



< กลับ

ถัดไป >

มาทบทวน
ข้อสอบกัน
นะครับ



Set 3

สอบถามเพิ่มเติม 091-072-5616



โรงเรียนสอนขับรถปัญญาวัดณ์ P-DRIVING

ข้อสอบ 26

กดเพื่อขยายเต็มหน้าจอ

Which of the following pictures shows the incorrect way to park?

(792)



1.)



2.)



3.)



4.)



< กลับ

ถัดไป >

มาทบทวน
ข้อสอบกัน
นะครับ



Set 3

สอบถามเพิ่มเติม 091-072-5616



โรงเรียนสอนขับรถปัญญาววัฒน์ P-DRIVING

ข้อสอบ 27

กดเพื่อขยายเต็มหน้าจอ

What does this road marking mean?⁽⁶⁸⁹⁾



1.) Stop-and-go zone



2.) Stop area



3.) Car Park areas



4.) Safety zone or coloured island.



< กลับ

ถัดไป >

มาทบทวน
ข้อสอบกัน
นะครับ



Set 3

สอบถามเพิ่มเติม 091-072-5616



โรงเรียนสอนขับรถปัญญาวัดณ์ P-DRIVING

ข้อสอบ 28

กดเพื่อขยายเต็มหน้าจอ

Which is the correct way to start car engine?⁽⁶⁵⁹⁾



มาทบทวน
ข้อสอบกัน
นะครับ



1.) Press the clutch pedal - start the engine.



2.) Pull hand brake - turn off electronic equipments - start the engine.



3.) Pull hand brake - on neutral gear - turn off electronic equipments - press clutch pedal - start the engine. ✓



4.) On neutral gear - pull hand brake - start the engine.

< กลับ

ถัดไป >

Set 3

สอบถามเพิ่มเติม 091-072-5616



โรงเรียนสอนขับรถปัญญาวัดณ์ P-DRIVING

ข้อสอบ 29

กดเพื่อขยายเต็มหน้าจอ

Which one is not the way to drive a car safely while raining?

(1909)



1.) Turn on the emergency light at all times when it rains.



2.) Leave a long distance from the car in front.



3.) Turn on the headlights.



4.) Use a safe speed.

< กลับ

ถัดไป >

มาทบทวน
ข้อสอบกัน
นะครึบ



Set 3

สอบถามเพิ่มเติม 091-072-5616



โรงเรียนสอนขับรถปัญญาวัฒน์ P-DRIVING

ข้อสอบ 30

กดเพื่อขยายเต็มหน้าจอ

Who in the following can obtain a personal driving licence?

(1815)



1.) Mr. Black is under licence confiscated.



2.) Mrs. Ying is a person of insanity or mental disorder.



3.) Mrs. Red is under a suspended licence.



4.) Mr. Chai is not physically disabled to the point that he can not drive.



< กลับ

ถัดไป >

มาทบทวน
ข้อสอบกัน
นะครับ



Set 3

สอบถามเพิ่มเติม 091-072-5616



โรงเรียนสอนขับรถปัญญาวัดณ์ P-DRIVING

ข้อสอบ 31

กดเพื่อขยายเต็มหน้าจอ

Which one is NOT how to protect the flat tyre properly? ⁽¹⁶⁹³⁾



1.) Fill the tyres according to the criteria in the manual.



2.) Do not use tyres that wear out or expire.



3.) Wipe the tyres with rubber polish.



4.) Do not carry excess weight.



< กลับ

ถัดไป >

มาทบทวน
ข้อสอบกัน
นะครึบ



Set 3

สอบถามเพิ่มเติม 091-072-5616



โรงเรียนสอนขับรถปัญญาววัฒน์ P-DRIVING

ข้อสอบ 32

กดเพื่อขยายหน้าจอ

Which one is bad driving behaviour?⁽⁶⁰⁷⁾



1.) Driving outside the town must not exceed 90 km/h



2.) Driving in the town must not exceed 80 km/h



3.) Drive slowly and close to the left edge.



4.) Drive without paying consideration to other road users



< กลับ

ถัดไป >

มาทบทวน
ข้อสอบกัน
นะครับ



Set 3

สอบถามเพิ่มเติม 091-072-5616



โรงเรียนสอนขับรถปัญญาวัดณ์ P-DRIVING

ข้อสอบ 33

กดเพื่อขยายหน้าจอ

Which of the following is an attitude of a safe driver?⁽¹⁹¹⁹⁾



1.) Driving safely without an accident



2.) Fully focus when driving, strictly follow traffic laws and regulations, convey good manner and kindness.



3.) Drive slowly and laid back



4.) Drive skillfully

< กลับ

ถัดไป >

มาทบทวน
ข้อสอบกัน
นะครับ



Set 3

สอบถามเพิ่มเติม 091-072-5616



โรงเรียนสอนขับรถปัญญาวัฒน์ P-DRIVING






ข้อสอบ 34

กดเพื่อขยายเต็มหน้าจอ

What should you do when your car approaches a pedestrian crossing and you notice a wheelchaired person waiting to cross the road?

(1967)



 <p>1.) Wave to tell the wheelchaired person to cross the road</p>	 <p>2.) Prepare to stop the car</p> 
 <p>3.) Wave to tell the wheelchaired person to stop and wait</p>	 <p>4.) Continue to drive</p>

< กลับ

ถัดไป >

มาทบทวน
ข้อสอบกัน
นะครับ



Set 3

สอบถามเพิ่มเติม 091-072-5616



โรงเรียนสอนขับรถปัญญาวัดณ์ P-DRIVING

ข้อสอบ 35

กดเพื่อขยายเต็มหน้าจอ

From the picture, if you are driving behind a cyclist but you want to turn left, what should you do?

(1898)



1.) Slow down until the bike passes the turn



2.) Park and wait until the cyclist passes the turn.



3.) Try to overtake the bike before the turn.



4.) Turn without paying attention to a bicycle.

< กลับ

ถัดไป >

มาทบทวน
ข้อสอบกัน
นะครับ



Set 3

สอบถามเพิ่มเติม 091-072-5616



โรงเรียนสอนขับรถปัญญาววัฒน์ P-DRIVING

ข้อสอบ 36

กดเพื่อขยายเต็มหน้าจอ

Which one do you think is the worst driving behaviour?⁽¹⁹³¹⁾



1.) Use normal speed when another car flashes asking for way



2.) Driving close to the car in front along with sounding horn.



3.) Drive to the left or give way to the emergency vehicle.



4.) Slow down to other cars overtaking.

< กลับ

ถัดไป >

มาทบทวน
ข้อสอบกัน
นะคะ



Set 3

สอบถามเพิ่มเติม 091-072-5616



โรงเรียนสอนขับรถปัญญาววัฒน์ P-DRIVING

ข้อสอบ 37

กดเพื่อขยายเต็มหน้าจอ

Which of the following give you a longer stopping/braking distance?

(630)



1.) Lubricant



2.) Loading additional weight on vehicle.



3.) Road surface condition



4.) Speed of car

< กลับ

ถัดไป >

มาทบทวน
ข้อสอบกัน
นะครับ



Set 3

สอบถามเพิ่มเติม 091-072-5616



โรงเรียนสอนขับรถปัญญาวัดณ์ P-DRIVING

ข้อสอบ 38

กดเพื่อขยายเต็มหน้าจอ

What should you do if you are driving behind a large vehicle signalling a left turn but instead it moves gradually to the right?

(1896)



1.) Follow the bigger vehicle very closely



2.) Make horn signals



3.) Overtake on the left



4.) Keep a safe distance.



< กลับ

ถัดไป >

มาทบทวน
ข้อสอบกัน
นะครับ



Set 3

สอบถามเพิ่มเติม 091-072-5616



โรงเรียนสอนขับรถปัญญาวัดณ์ P-DRIVING

ข้อสอบ 39

กดเพื่อขยายเต็มหน้าจอ

Which of the following relates to driving safely?⁽¹⁸⁷⁷⁾



1.) Keep a suitable distance from other vehicles so that drivers can stop their cars in time.



2.) Overtaking on the left side of the road with two lanes when the car in front is slow.



3.) Overtaking the car that is approaching a curve



4.) Turn on high beams at all times while driving at night.

< กลับ

ถัดไป >

มาทบทวน
ข้อสอบกัน
นะครึบ



Set 3

สอบถามเพิ่มเติม 091-072-5616



โรงเรียนสอนขับรถปัญญาวัดณ์ P-DRIVING

ข้อสอบ 40

กดเพื่อขยายเต็มหน้าจอ

What does 'safety zone' mean?⁽⁵⁵⁴⁾



1.) The marked areas in the lanes that are clearly visible at all times for pedestrians waiting at a crossing or for people who are getting on or off a stopped vehicle to wait before



2.) The area where pedestrians can cross the road without waiting.



3.) The area where the drivers can drive the car.



4.) The area marked with a sign indicating to the driver that it is safe to drive.

< กลับ

ถัดไป >

มาทบทวน
ข้อสอบกัน
นะครับ



Set 3

สอบถามเพิ่มเติม 091-072-5616



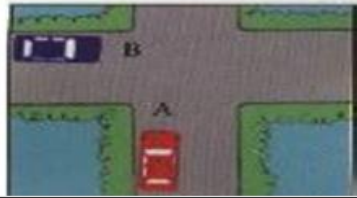
โรงเรียนสอนขับรถปัญญาวัดณ์ P-DRIVING

ข้อสอบ 41

กดเพื่อขยายเต็มหน้าจอ

Both cars arrive at the intersection the same time, which car has the right to go first?

(525)



1.) The car B



2.) Both the car A and the car B



3.) The car A



4.) The car arriving at the intersection first.

< กลับ

ถัดไป >

มาทบทวน
ข้อสอบกัน
นะครับ



Set 3

สอบถามเพิ่มเติม 091-072-5616



โรงเรียนสอนขับรถปัญญาวัดณ์ P-DRIVING

ข้อสอบ 42

กดเพื่อขยายเต็มหน้าจอ

In the following picture, you want to drive straight on at the green traffic light but you hear ambulance sirens on your right hand side, you should:

(1956)



1.) Hurry up so as to not block the ambulance.



2.) Use a horn signal to warn the ambulance to know you are going to go first.



3.) Stop and wait for the ambulance to go first



4.) Drive through normally.



< กลับ

ถัดไป >

มาทบทวน
ข้อสอบกัน
นะครับ



Set 3

สอบถามเพิ่มเติม 091-072-5616



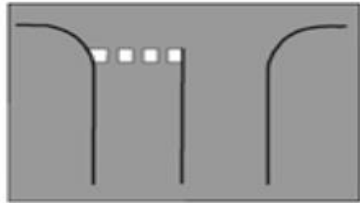
โรงเรียนสอนขับรถปัญญาวัดณ์ P-DRIVING

ข้อสอบ 43

กดเพื่อขยายหน้าจอ

When the driver sees this road marking, what should the driver do?

(684)



1.) Reduce speed and then speed up



2.) Let the driver slow down and then overtake.



3.) Slow down if another car or pedestrian is in the way



4.) Let the driver drive fast.

< กลับ

ถัดไป >

มาทบทวน
ข้อสอบกัน
นะครับ



Set 3

สอบถามเพิ่มเติม 091-072-5616



โรงเรียนสอนขับรถปัญญาวัดณ์ P-DRIVING

ข้อสอบ 44

กดเพื่อขยายเต็มหน้าจอ

From the picture, does the blue car or the green car have the right to go through first?

(1888)



1.) Let the green car go first.



2.) Whichever car has the higher speed.



3.) Either car to go as long as it arrives first.



4.) Let the blue car go first.

< กลับ

ถัดไป >

มาทบทวน
ข้อสอบกัน
นะครับ



Set 3

สอบถามเพิ่มเติม 091-072-5616

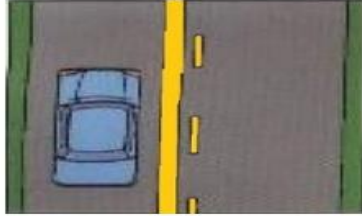


โรงเรียนสอนขับรถปัญญาวัดณ์ P-DRIVING

ข้อสอบ 45

กดเพื่อขยายเต็มหน้าจอ

From the picture, what does the lane divider marks mean?⁽⁵²⁶⁾



1.) Park the car.



2.) The driver can turn right.



3.) Do not overtake into the right lane.



4.) U-turn is allowed.

< กลับ

ถัดไป >

มาทบทวน
ข้อสอบกัน
นะครับ



Set 3

สอบถามเพิ่มเติม 091-072-5616



โรงเรียนสอนขับรถปัญญาววัฒน์ P-DRIVING

ข้อสอบ 46

กดเพื่อขยายเต็มหน้าจอ

When should the oil level in the engine be checked?⁽⁵⁸⁷⁾



1.) While the engine is cool.



2.) While parking the car on the hill.



3.) As the engine runs



4.) Right after turning off the engine.

< กลับ

ถัดไป >

มาทบทวน
ข้อสอบกัน
นะครับ



Set 3

สอบถามเพิ่มเติม 091-072-5616



โรงเรียนสอนขับรถปัญญาวัดณ์ P-DRIVING

ข้อสอบ 47

กดเพื่อขยายเต็มหน้าจอ

When the driver sees this sign, what should the driver do?⁽⁷⁶²⁾



1.) Slow down and be careful. Curve left ahead



2.) Slow down and be careful. There may be cars merging from the left ahead.



3.) Slow down and be careful. Right curve ahead.



4.) Slow down and be cautious. The road ahead is a sharp curve to the left

< กลับ

ถัดไป >

มาทบทวน
ข้อสอบกัน
นะครับ



Set 3

สอบถามเพิ่มเติม 091-072-5616



โรงเรียนสอนขับรถปัญญาวัดณ์ P-DRIVING






ข้อสอบ 48

กดเพื่อขยายเต็มหน้าจอ

How could you conduct a simple test to check how much power your car battery has left?

(1816)



 <p>1.) Press the clutch and shift gear</p>	 <p>2.) Blow the horn and listen to the sound whether it is normal or light.</p> 
 <p>3.) Check steering moves to the left and right.</p>	 <p>4.) Move the car a short distance then test the brake</p>

< กลับ

ถัดไป >

มาทบทวน
ข้อสอบกัน
นะครับ



Set 3

สอบถามเพิ่มเติม 091-072-5616



โรงเรียนสอนขับรถปัญญาวัดณ์ P-DRIVING

ข้อสอบ 49

กดเพื่อขยายเต็มหน้าจอ

When the driver sees this sign, what should the driver do? ⁽⁷⁰⁷⁾



1.) Pedestrians only



2.) No pedestraains allowed



3.) Crossing zone.



4.) Crossing



< กลับ

ถัดไป >

มาทบทวน
ข้อสอบกัน
นะครับ



Set 3

สอบถามเพิ่มเติม 091-072-5616



โรงเรียนสอนขับรถปัญญาวัดณ์ P-DRIVING

ข้อสอบ 50

กดเพื่อขยายเต็มหน้าจอ

When the driver sees this sign, what should the driver do? (696)



1.) Turn right



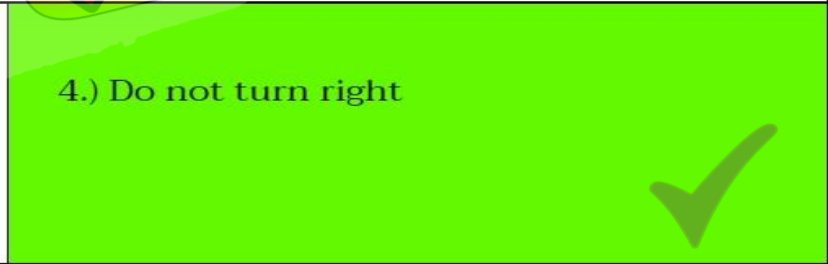
2.) Do not turn left



3.) Turn left



4.) Do not turn right



< กลับ

มาทบทวน
ข้อสอบกัน
นะครับ



Set 3

สอบถามเพิ่มเติม 091-072-5616